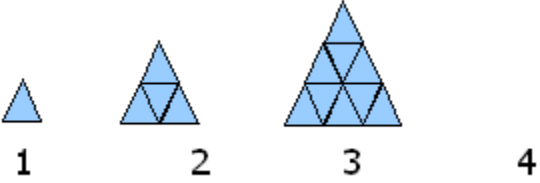


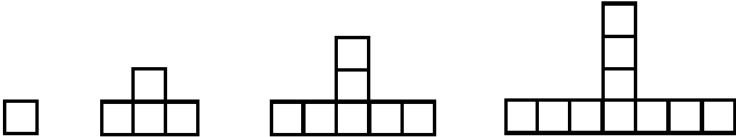
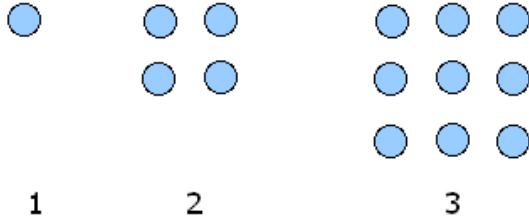



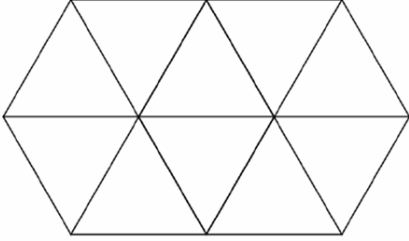
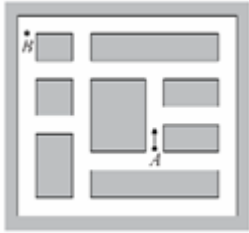
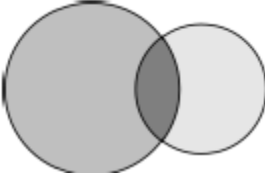
HỌC TOÁN LIVESTREAM CÙNG THẦY HIẾU

LỚP 5 – ĐỀ SỐ 01

Câu hỏi	Nội dung câu hỏi	Đáp án
<p>Câu 1</p>	<p>Điền tiếp vào chỗ trống trong dãy số dưới đây:</p> <p>a) 13, 31, 24, 42, 35, 53, __, __, 57, 75</p> <p>b) 0, 1, 2, 3, 6, 11, 20, __, 68</p>	
<p>Câu 2</p>	<p>Có bao nhiêu hình tam giác nhỏ trong hình thứ 4 theo quy luật dưới đây?</p> <div style="text-align: center;">  </div>	
<p>Câu 3</p>	<p>Có 5 người trong một bàn tiệc. Tất cả đều bắt tay với những người còn lại 1 lần. Hỏi có bao nhiêu cái bắt tay?</p> <div style="text-align: center;">  </div>	
<p>Câu 4</p>	<p>Bạn cần cắt một khúc gỗ thành 35 miếng. Mỗi lần cắt đôi khúc gỗ mất 3 phút. Hỏi bạn mất tất cả bao nhiêu thời gian để cắt được thành 35 miếng?</p>	
<p>Câu 5</p>	<p>Phòng 1 và phòng 2 có tất cả 62 cậu bé. Nếu 6 cậu bé chuyển từ phòng 1 sang phòng 2 thì hai phòng có số cậu bé bằng nhau. Hỏi lúc đầu mỗi phòng có bao nhiêu cậu bé?</p>	
<p>Câu 6</p>	<p>Bạn An đọc một cuốn sách dày 99 trang. Hỏi chữ số 4 xuất hiện bao nhiêu lần ở đánh dấu trang của cuốn sách</p>	

	đó?	
Câu 7	<p>Bạn Nam đọc một cuốn sách và thấy rằng chữ số 4 xuất hiện 14 lần ở đánh dấu trang của cuốn sách. Hỏi số trang sách ít nhất phải là bao nhiêu?</p> 	
Câu 8	<p>Có bao nhiêu hình vuông nhỏ ở hình thứ 20 trong dãy dưới đây?</p> 	
Câu 9	<p>Ngày 28 tháng 08 năm 2006 khi được viết dưới dạng MMDDYYYY thì có dạng 08282006, có tất cả các chữ số đều chẵn. Hỏi ngày tiếp theo có tính chất đó là ngày nào?</p>	
Câu 10	<p>Cho dãy số 1, 1, 2, 3, 5, 8, 13, 21, 34....kể từ số thứ 3, mỗi số đều bằng tổng của hai số liền trước. Hỏi trong 1000 số đầu tiên của dãy, có bao nhiêu số lẻ?</p>	
Câu 11	<p>Có 39 học sinh xếp thành 1 hàng dọc chuẩn bị lên xe bus. Kate đứng thứ 18 từ trên xuống còn John đứng thứ 32 từ dưới lên. Hỏi có bao nhiêu học sinh đứng giữa Kate và John?</p>	
Câu 12	<p>Theo quy luật dưới đây, hình thứ 8 có bao nhiêu hình tròn nhỏ?</p>	

	 <p style="text-align: center;">1 2 3</p>	
<p>Câu 13</p>	<p>Bách có 3 lọ hoa gồm các màu xanh, đỏ, vàng. Bách sắp xếp các lọ hoa này trên cửa sổ. Hỏi bạn Bách có bao nhiêu cách sắp xếp?</p>	
<p>Câu 14</p>	<p>John có nhiều đồ chơi hơn Janet và nhiều đồ chơi hơn Bill. Mark có nhiều đồ chơi hơn John. Hỏi phát biểu nào sau đây là đúng?</p> <p>A. Janet có nhiều đồ chơi hơn John B. Bill có nhiều đồ chơi hơn Mark C. Janet có nhiều đồ chơi hơn Mark D. Mark có nhiều đồ chơi hơn Bill</p>	
<p>Câu 15</p>	<p>Tính $DE + EF$ trong hình dưới đây biết diện tích ABCDEF là 56cm^2</p> 	
<p>Câu 16</p>	<p>Có bao nhiêu hình tam giác trong hình dưới đây?</p>	

		
<p>Câu 17</p>	<p>Nick tập lái xe trên đường thể hiện như hình vẽ. Biết rằng chỉ có thể rẽ phải mà không được rẽ trái. Hỏi để đi từ A đến B thì Nick cần rẽ ít nhất bao nhiêu lần?</p> <div style="text-align: center;">  </div>	
<p>Câu 18</p>	<p>Bằng cách vẽ hai đường tròn cắt nhau bạn Nam nhận được nhiều nhất là 3 vùng khép kín (như hình vẽ)</p> <div style="text-align: center;">  </div> <p>Hỏi nếu vẽ hai hình vuông thì có thể nhận được nhiều nhất là bao nhiêu vùng khép kín?</p>	
<p>Câu 19</p>	<p>Cho dãy số: 2, 6, 12, 20, 30, 42, Tìm số hạng thứ 50 của dãy trên?</p>	
<p>Câu 20</p>	<p>Tổng các chữ số của số 2014 là 7 ($2 + 0 + 1 + 4 = 7$). Hỏi có bao nhiêu số tự nhiên từ 100 đến 1000 có tổng các chữ số bằng 7?</p>	