

MathSpace – Inspiring passion
ĐỀ THI KIỂM TRA XẾP LỚP 4 (2016 – 2017)
MÔN TOÁN TIẾNG ANH

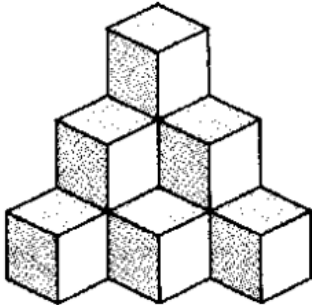

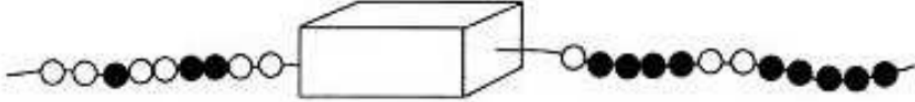
Thời gian làm bài: 75 phút – Học sinh không được sử dụng máy tính

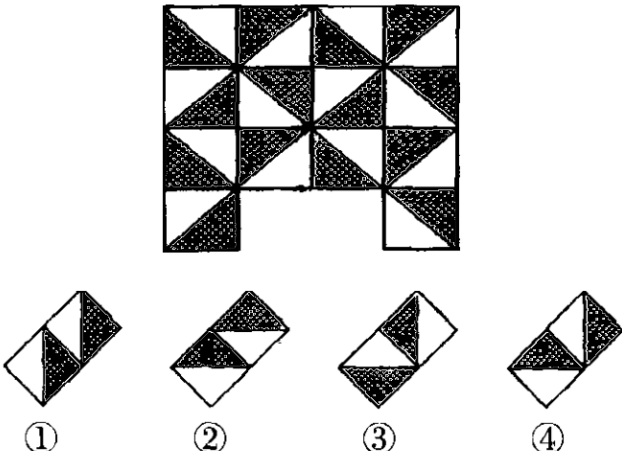
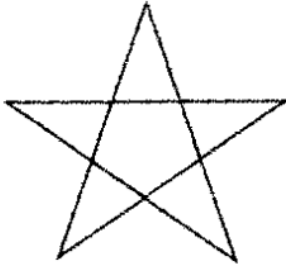

Họ tên:.....

Số ĐT PHHS:











Trường:

Fill your answer in the blank near to each question.

Problem	Question	Your answer
MS.01	<p>How many cubes are in the figures? <i>Có bao nhiêu hình lập phương nhỏ trong hình dưới đây?</i></p> 	
MS.02	<p>The following diagram shows that hanging up one handkerchief requires 2 clips and 2 handkerchiefs require 3 clips. In the same way, how many clips are needed to hang up 21 handkerchiefs? <i>Hình dưới đây mô tả việc treo một cái khăn thì cần 2 cái kẹp, treo 2 cái khăn thì cần 3 cái kẹp. Hỏi với cách tương tự như vậy, để treo 21 cái khăn thì cần bao nhiêu cái kẹp?</i></p> 	
MS.03	<p>How many beads are inside the box? <i>Có bao nhiêu hạt bên trong hộp?</i></p> 	
MS.04	<p>In the figure below, the table cloth is missing a piece. Which piece of cloth from number 1 to 4 can be used to repair it to its own pattern? <i>Trong hình dưới đây, một cái khăn trải bàn bị thiếu mất một mảnh. Hỏi trong các mảnh được đánh số từ 1 đến 4 có thể được dùng để dán vào chỗ thiếu đó sao cho hợp qui luật?</i></p>	

		
<p>MS.05</p>	<p>When you write all the counting numbers from 1 to 100, how many times do you write the digit “0”?</p> <p><i>Khi viết các số tự nhiên từ 1 đến 100, cần dùng bao nhiêu chữ số 0?</i></p>	
<p>MS.06</p>	<p>How many different triangles can you find from the star figure?</p> <p><i>Có bao nhiêu tam giác khác nhau trong hình ngôi sao dưới đây?</i></p> 	
<p>MS.07</p>	<p>The scale below is showing the left side weighing heavier than the right side. We want to make the two sides balance or equal (both sides weigh the same). Which 2 balls should we exchange to make the two sides equal?</p> <p><i>Trong hình cái cân dưới đây, phần cân bên trái nặng hơn phần cân bên phải. Chúng ta muốn làm cho cân thăng bằng (hai bên có khối lượng như nhau). Hỏi hai quả bóng nào ở hai phía cân đổi chỗ cho nhau để đạt được cân thăng bằng?</i></p> 	
<p>MS.08</p>	<p>Aaron is waiting in a line. He is in the 5th place counting from the front and he is in the 8th place counting from the back. How many people are in this line?</p> <p><i>Aaron đang xếp hàng đợi. Cậu ấy đứng thứ 5 nếu đếm từ trước cậu ấy xuống, còn nếu đếm từ phía sau thì cậu ấy đứng thứ 8. Hỏi có bao nhiêu người đang xếp hàng?</i></p>	
<p>MS.09</p>	<p>I am a 3-digit even number. If you round me to the nearest ten, I become</p>	

	200. The sum of my digits is 18. What number am I? <i>Tôi là một số chẵn có 3 chữ số. Nếu làm tròn đến gần mười nhất thì tôi sẽ là 200. Tổng các chữ số của tôi là 18. Hỏi tôi là số nào?</i>	
MS.10	Peter is 14 years old and Amy is 16 years old now. In how many years later will the sum of their ages equal 50? <i>Hiện nay Peter 14 tuổi và Amy 16 tuổi. Hỏi sau bao nhiêu năm nữa thì tổng số tuổi của hai người là 50?</i>	
MS.11	What would be the time exactly 131 minutes after 11:00 AM? <i>Hãy tìm thời gian sau 131 phút kể từ lúc 11 giờ sáng?</i>	
MS.12	Which of figures A, B, or C has the same perimeter as figure X? <i>Hình nào trong các hình A, B hoặc C dưới đây có cùng chu vi với hình X?</i>	
MS.13	I am a number and I am made up using 3 different digits. The sum of all my digits is 3. My ten thousands digit is double of my tens digit. What number am I? <i>Tôi là một số và tôi được tạo thành từ 3 chữ số khác nhau. Tổng các chữ số của tôi là 3. Chữ số hàng mười nghìn gấp đôi chữ số hàng chục. Hỏi tôi là số nào?</i>	
MS.14	From the diagram below, which one of the five boxes is the lightest? <i>Từ các hình dưới đây, hãy cho biết hộp nào trong 5 hộp là nhẹ nhất?</i>	
MS.15	How to use all these 6 digits: 2, 5, 6, 7, 8, 9 to form a correct 2-digit addition problem? <i>Hãy dùng tất cả 6 chữ số 2, 5, 6, 7, 8, 9 để tạo thành phép toán cộng (đúng) các số có 2 chữ số. Viết phép toán đó.</i>	
MS.16	If today is April 16, the 27th day after tomorrow will be <i>Nếu hôm nay là 16 tháng tư thì 27 ngày sau sẽ là ngày</i>	
MS.17	What is the 2-digit number equal exactly twice the sum of its digits? <i>Tìm số có hai chữ số gấp 2 lần tổng các chữ số của nó.</i>	
MS.18	The picture below has six rows. If this pattern were continued downward to have 12 rows, how many more squares than happy faces would there be in the picture? <i>Hình dưới đây có 6 hàng. Nếu qui luật hình đó tiếp tục cho đến 12 hàng, khi đó số hình vuông nhiều hơn số mặt cười là bao nhiêu?</i>	

		
<p>MS.19</p>	<p>Find the value of each fruit. <i>Tính các giá trị của mỗi loại quả dưới đây.</i></p> <p>  +  = 7  +  = 10  +  = 9  = ()  = ()  = () </p>	
<p>MS.20</p>	<p>Melanie gave her mother a bouquet of 24 flowers. The bouquet was made up of roses, carnations, and daisies. There were twice as many daisies as roses. There were 3 times as many carnations as roses. How many of each kind of flower were in the bouquet? <i>Melanie tặng cho mẹ một bó hoa gồm 24 bông hoa. Bó hoa được bó từ các bông hoa hồng, hoa cẩm chướng và hoa cúc. Số lượng hoa cúc gấp 2 lần số lượng hoa hồng. Số lượng hoa cẩm chướng gấp 3 lần số lượng hoa hồng. Tính số hoa mỗi loại có trong bó hoa đó?</i></p>	

GOOD LUCK 😊