

**CLB MATHSPACE***Inspiring passion***ĐỀ THI KIỂM TRA XẾP LỚP****NĂM HỌC 2019 – 2020****MÔN TOÁN****DÀNH CHO HỌC SINH LỚP 2 LÊN LỚP 3****Thời gian làm bài: 60 phút**

Họ tên học sinh: .....

Lớp: .....

Số điện thoại PHHS: .....

Trường: .....

<i>Điểm cơ bản</i>	
<i>Điểm nâng cao</i>	
<i>Tổng điểm</i>	






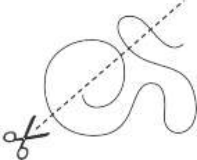

***Hướng dẫn làm bài:***

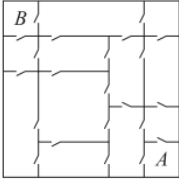

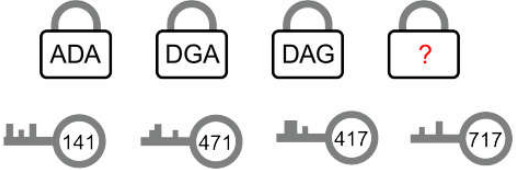
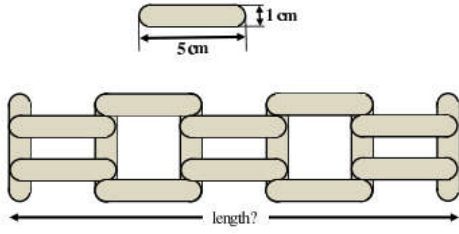
- Cố gắng trả lời các câu hỏi nhiều nhất có thể
- Không sử dụng máy tính hay các thiết bị hỗ trợ tính toán
- Điền đáp án vào ô trống bên cạnh mỗi bài trắc nghiệm
- Chỉ có câu trả lời đúng mới được tính điểm
- Câu trả lời sai không được tính điểm, không bị trừ điểm

***Thang điểm các câu hỏi:******Phần cơ bản: Bài 1 – Bài 20: 3 điểm/ mỗi bài******Phần nâng cao: Bài 21 – Bài 30: 4 điểm/ mỗi bài***



17	Có 27 học sinh xếp hàng, mỗi hàng 3 học sinh. Hỏi có mấy hàng như thế?	
18	Tính chu vi hình tứ giác có độ dài các cạnh là: 4dm, 5dm, 6dm và 7dm.	
19	Một người nuôi một đàn vịt. Sau khi người đó bán đi 3 chục con vịt thì số vịt còn lại bằng số vịt đã bán. Hỏi trước khi bán, người đó nuôi bao nhiêu con vịt?	
20	Một con chó có 4 cái chân và một con gà có 2 cái chân. Hỏi 2 con chó và 3 con gà có tất cả bao nhiêu cái chân?	

PHẦN NÂNG CAO & IQ, TƯ DUY LOGIC ( Mỗi bài 4 điểm)		
Bài	Nội dung câu hỏi	Đáp án
21	Trên mặt chiếc đồng hồ có ghi các các số từ 1 đến 12. Hỏi trên mặt đồng hồ đó có tất cả bao nhiêu chữ số?	
22	Có bao nhiêu số có hai chữ số biết rằng trong mỗi số có tổng các chữ số bằng 5?	
23	Hình thứ 15 theo quy luật dưới đây là hình gì?  Chọn các đáp án dưới đây: A)  B)  C)  D) 	
24	Có một sợi dây và cái kéo cắt theo đường nét đứt như hình vẽ dưới đây:  Hỏi nhận được bao nhiêu đoạn dây sau khi cắt?	
25	Có bao nhiêu bàn tay phải trong hình dưới đây? 	
26	Trong hình dưới đây là mô tả về nhà của bạn An, các phòng được kết nối với nhau bằng các cửa ra vào. Bạn An muốn đi từ phòng A đến phòng B. Hỏi bạn ấy cần phải đi qua ít nhất bao nhiêu cửa?	

		
	A) 3      B) 4      C) 5      D) 6      E) 7	
27	Tổng tuổi của An và Bình hiện nay là 12 tuổi. Hỏi sau 4 năm nữa tổng số tuổi của hai bạn là bao nhiêu?	
28	<p>Có 5 chú chim đang đậu trên 1 dây phoi như hình vẽ dưới đây. Có một vài chú chim đang nhìn sang phải, còn lại một vài chú chim nhìn sang trái. Mỗi chú chim sẽ kêu số tiếng bằng số chú chim mà nó nhìn thấy theo hướng của mình. Ví dụ chú chim đứng thứ 3 (từ trái sang phải) sẽ kêu 2 tiếng.</p>  <p>Hỏi tất cả 5 chú chim đã kêu tổng cộng bao nhiêu tiếng?</p>	
29	<p>Mỗi một chìa khóa dưới đây sẽ dùng để mở được đúng 1 ổ khóa phía trên. Các số ở chìa khóa tương ứng với các chữ ở ổ khóa. Hỏi các chữ nào thay cho dấu “?” ở ổ khóa cuối cùng?</p>  <p>(A) GDA      (B) ADG      (C) GAD      (D) GAG      (E) DAD</p>	
30	<p>Một học sinh dùng các thanh gỗ nhỏ kích thước chiều dài là 5cm, chiều rộng là 1cm để tạo thành 1 hàng rào giống như dưới đây. Tính chiều dài của hàng rào đó.</p> 	

*Chúc các con làm bài tốt và thật nhiều niềm vui khi giải toán!*

*Mathspace – Lan tỏa đam mê học Toán!*