

ĐỀ KIỂM TRA CHẤT LƯỢNG SỐ 1 – LỚP 3

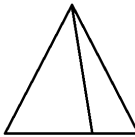


Thời gian: 60 phút – Đề thi gồm 04 trang

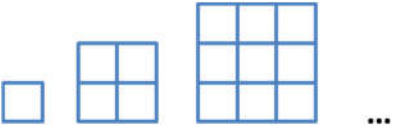

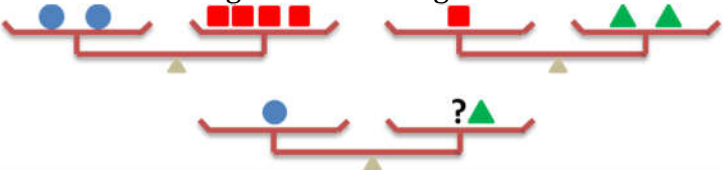


<i>Họ tên</i>
<i>Lớp</i>

<i>Phần bắt buộc</i>	
<i>Phần tự chọn</i>	

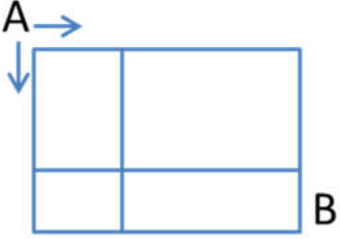
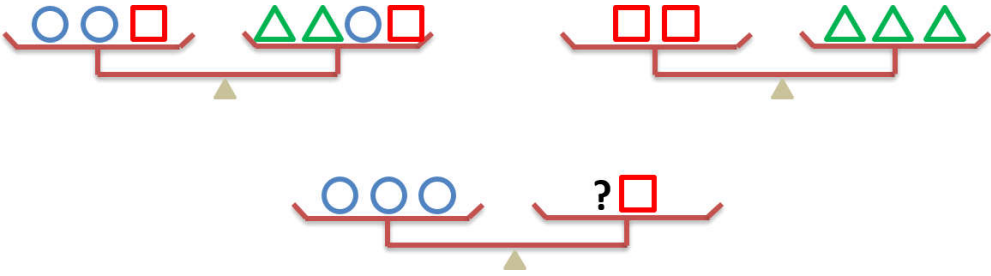
PHẦN BẮT BUỘC (Dành cho học sinh tất cả các lớp)

Phần kiến thức theo chuyên đề đang học tại CLB MathSpace (cả cơ bản và nâng cao)

Bài 1	Tính $A = 8 + 12 + 9 + 11$																	
Bài 2	Trong các biểu thức sau đây, biểu thức nào có giá trị lớn nhất: $A = 2 + 0 + 1 + 8$ $B = 2 \times 0 + 1 + 8$ $C = 2 + 0 \times 1 + 8$ $D = 2 \times 0 \times 1 \times 8$																	
Bài 3	Hình nào ở vị trí thứ 3 tính từ phải sang trái của hàng thứ 2 tính từ trên xuống? <div style="text-align: center;"> <table border="1" style="margin: auto;"> <tr> <td>∞</td> <td></td> <td>\bowtie</td> <td>\square</td> </tr> <tr> <td></td> <td>\oplus</td> <td>\heartsuit</td> <td>\diamond</td> </tr> <tr> <td>\heartsuit</td> <td>\triangle</td> <td>$*$</td> <td></td> </tr> <tr> <td></td> <td>\odot</td> <td>\oplus</td> <td>\bowtie</td> </tr> </table> </div>	∞		\bowtie	\square		\oplus	\heartsuit	\diamond	\heartsuit	\triangle	$*$			\odot	\oplus	\bowtie	
∞		\bowtie	\square															
	\oplus	\heartsuit	\diamond															
\heartsuit	\triangle	$*$																
	\odot	\oplus	\bowtie															
Bài 4	Trong các số sau số nào lớn nhất: 5656; 5665; 6556; 6655																	
Bài 5	Điền số còn thiếu vào chỗ ...: 1, 4, 7, 10, 13, ..., 19, 22																	
Bài 6	Hình dưới đây có bao nhiêu hình tam giác? <div style="text-align: center;">  </div>																	
Bài 7	Hình dưới đây có bao nhiêu hình vuông? <div style="text-align: center;">  </div>																	
Bài 8	Tìm số thay cho dấu "?". <div style="text-align: center;">  </div>																	

<p>Bài 9</p>	<p>Hình tiếp theo có bao nhiêu ô vuông nhỏ ?</p> 	
<p>Bài 10</p>	<p>Hình dưới đây có bao nhiêu sợi dây ?</p> 	
<p>Bài 11</p>	<p>Số cuối cùng ở hàng tiếp theo là số nào?</p> <p style="text-align: center;">1 2 4 6 3 5 7 9 11 8 10 12 14 16 18 20?..</p>	
<p>Bài 12</p>	<p>Cần bao nhiêu hình tam giác để cân bằng với 1 hình tròn?</p> 	
<p>Bài 13</p>	<p>Hình dưới đây mô tả các cân khi so sánh các con vật. Hỏi con vật nào nặng nhất? Con vật nào nhẹ nhất?</p> 	
<p>Bài 14</p>	<p>Anh có 18 viên bi, Bình có 12 viên bi. Hỏi An cần cho bình bao nhiêu viên để hai bạn có số bi bằng nhau ?</p>	
<p>Bài 15</p>	<p>Mèo và chuột cùng chạy về phía bên phải. Chuột mỗi lần bước 1 ô, còn mèo mỗi lần bước 2 ô. Hỏi mèo đuổi kịp chuột tại ô có số mấy?</p> 	

PHẦN TỰ CHỌN (Đây là phần không bắt buộc. Phần này chỉ dành cho học sinh đang học lớp chọn (lớp G1,2) và các học sinh có mong muốn thi lên lớp chọn. Các con học sinh cố gắng làm càng nhiều càng tốt, nhiều bài "bổ não" để rèn luyện não nhé!)

PHẦN BÀI NÂNG CAO & IQ, TƯ DUY LOGIC (Trắc nghiệm điền đáp số - Mỗi bài 1 điểm)	
1.	<p>Có bao nhiêu cách đi từ A đến B mà chỉ được đi theo hai hướng: từ trái qua phải hoặc từ trên xuống dưới (\rightarrow, \downarrow)</p> 
2.	<p>Tìm số hình vuông cân bằng với 3 hình tròn.</p> 
3.	<p>Một bạn đứng xếp hàng vào lớp. Bạn ấy đứng thứ 6 từ trên xuống và đứng thứ 8 từ dưới lên. Hỏi hàng đó có bao nhiêu bạn?</p>
4.	<p>5 người bạn gặp nhau. Mỗi người đều bắt tay một lần với 4 người còn lại. Hỏi có tất cả bao nhiêu cái bắt tay?</p>
5.	<p>Chữ MATHSPACE bị xáo trộn thành AMTPHSAEC. Cần ít nhất bao nhiêu bước di chuyển để có được chữ ban đầu biết rằng mỗi lần chỉ được di chuyển 1 chữ cái.</p>

(Còn 1 bài tự luận ở trang bên nhé ☺)

CỐ LÊN!!!



