

CLB MATHSPACE
Inspiring passion

ĐỀ THI KIỂM TRA XẾP LỚP

NĂM HỌC 2016 – 2017

MÔN TOÁN

DÀNH CHO HỌC SINH LỚP 3 LÊN LỚP 4

Thời gian làm bài: 75 phút

Họ tên học sinh:

Lớp:

Số điện thoại PHHS:

Hướng dẫn làm bài:

- Cố gắng trả lời các câu hỏi nhiều nhất có thể
- Không sử dụng máy tính hay các thiết bị hỗ trợ tính toán
- Điền đáp án vào ô trống bên cạnh mỗi bài trắc nghiệm
- Viết chi tiết lời giải phần giấy trắng dưới mỗi bài tự luận
- Chỉ có câu trả lời đúng mới được tính điểm
- Câu trả lời sai không được tính điểm, không bị trừ điểm

Thang điểm các câu hỏi

Các câu từ MS.01 đến MS.10 – Trắc nghiệm

4 điểm/câu

Các câu từ MS.11 đến MS.18 – Trắc nghiệm

5 điểm/câu

Các câu từ MS.19 đến MS.20 – Tự luận

10 điểm/câu

Tổng điểm: 100 điểm

ĐỀ THI KIỂM TRA XẾP LỚP 4 (2016 – 2017)

Thời gian làm bài: 75 phút – Học sinh không được sử dụng máy tính

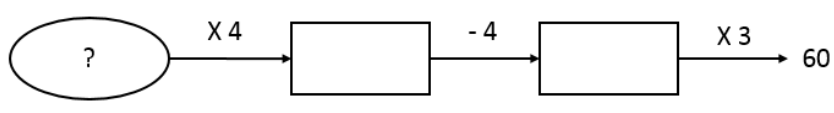
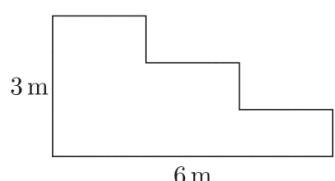
Họ tên:

Số ĐT PHHS:

Trường:

Phần trắc nghiệm (*Học sinh điền đáp số vào ô trống bên cạnh*)

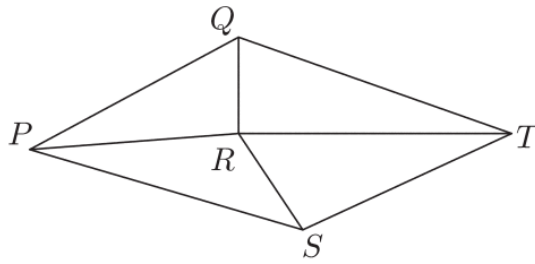
MS.01 – MS.10: 4 điểm/câu. MS.11 – MS.18: 5 điểm/câu. MS.19 – MS.20: 10 điểm/bài

Câu hỏi	Nội dung câu hỏi	Trả lời
MS.01	Hiện nay Hà 9 tuổi. Tuổi ông bằng 6 lần tuổi Hà cộng với 8. Hỏi ông hơn Hà bao nhiêu tuổi?	
MS.02	Tìm số tiếp theo của dãy số sau: 3, 5, 9, 15, 23, 33, 45,	
MS.03	Tìm số ở dấu “?” thỏa mãn các phép toán dưới đây. 	
MS.04	Lan có 56 cái kẹo, Lan chia cho Hồng $\frac{1}{4}$ số kẹo, sau đó chia cho Huệ $\frac{1}{3}$ số kẹo còn lại. Hỏi sau khi chia cho hai bạn thì Lan còn lại bao nhiêu cái kẹo?	
MS.05	Một thửa ruộng hình chữ nhật có chiều dài gấp 3 lần chiều rộng và chu vi bằng 48m. Tính chiều dài, chiều rộng của thửa ruộng đó?	
MS.06	Tính giá trị biểu thức sau: $19 + 18 + 17 + 16 + 14 + 21 + 22 + 23 + 24 + 26$	
MS.07	Tìm số bị chia biết số chia là 3, thương là 18, số dư là số dư lớn nhất có thể.	
MS.08	Tìm hiệu giữa số lớn nhất có 3 chữ số và tổng các chữ số là 16 với số bé nhất có 3 chữ số khác nhau.	
MS.09	Tìm các giá trị của chữ số x thỏa mãn: $76345 > \overline{76x48} > 76086$	
MS.10	Ngày 8/3/2016 là thứ Ba, hỏi ngày 1/4/2016 là thứ mấy?	
MS.11	Sắp xếp 3 tấm thẻ P, Q, R dưới đây theo thứ tự nào sẽ nhận được số có 5 chữ số lớn nhất có thể? <div style="display: flex; justify-content: space-around; align-items: center;"> <div style="text-align: center;">11 P</div> <div style="text-align: center;">7 Q</div> <div style="text-align: center;">10 R</div> </div>	
MS.12	Cho hình dưới đây, tính chu vi của hình đó. 	
MS.13	Có 10 bao gạo, nếu lấy ra ở mỗi bao gạo 5kg thì số gạo lấy ra bằng số	

	gạo của 2 bao gạo nguyên vẹn. Hỏi có tất cả bao nhiêu kg gạo?	
MS.14	<p>Gập hình dưới đây theo các cạnh để tạo thành một khối hình lập phương. Hỏi mặt nào sẽ đối diện với mặt có chữ O?</p> <div style="text-align: center;"> </div>	
MS.15	<p>Cho biết giá tiền của mỗi túi đồ chơi được dán ở bên ngoài như dưới đây. Hãy tìm giá của túi đồ chơi cuối cùng gồm 1 quả bóng và 1 ô tô đồ chơi?</p> <div style="text-align: center;"> </div>	
MS.16	<p>5 bạn học sinh Cam, Franco, Adrian, Trent và Xavier xếp hàng theo thứ tự từ người ít tuổi nhất đến người lớn tuổi nhất. Cam đứng cạnh Adrian còn Franco và Trent thì không đứng cạnh nhau. Hỏi ai là người không thể đứng giữa hàng? Giải thích vì sao?</p>	
MS.17	<p>Hai hình \heartsuit và \triangle dưới đây đại diện cho hai chữ số khác nhau. Biết rằng phép tính cộng dưới đây là đúng, hãy tìm giá trị của số ở hình tam giác \triangle?</p> <div style="text-align: center;"> $\begin{array}{r} 3 \quad 2 \quad 5 \quad \heartsuit \\ + \quad 5 \quad \heartsuit \quad 7 \quad \triangle \\ \hline 8 \quad \triangle \quad 2 \quad 5 \end{array}$ </div>	
MS.18	<p>Có bao nhiêu hình vuông trong hình dưới đây.</p> <div style="text-align: center;"> </div>	


Phần tự luận (Học sinh trình bày chi tiết lời giải ở phía giấy trắng bên dưới)

MS.19. Sơ đồ dưới đây mô tả 5 thành phố và nối với nhau bởi các con đường.



Có bao nhiêu cách để đi từ thành phố P đến thành phố T mà không có thành phố nào được đi qua nhiều hơn 1 lần.

MS.20. Bạn Bình nghĩ một số có 2 chữ số và có một chữ số này gấp 2 lần chữ số còn lại. Ví dụ như số 42 hoặc số 36. Hỏi có bao nhiêu số mà Bình có thể nghĩ đến?



Handwriting practice lines consisting of multiple horizontal dashed lines.